

05-4

Hva er hundre prosent?

Her er det mange
smykker med 70%
avslag



OPPGAVE A

1 Rachel Marie kjøpte 3 ulike smykker med 70 % avslag. Hun betalte

- *kr 60,-*
- *kr 76,50*
- *kr 53,40*

Hva kostet disse tre smykkene til full pris? Vis hvordan dere tenker.

SVAR:

Velg selv

2 Velg selv noen tilbudspriser med ulike rabatter og finn full pris.

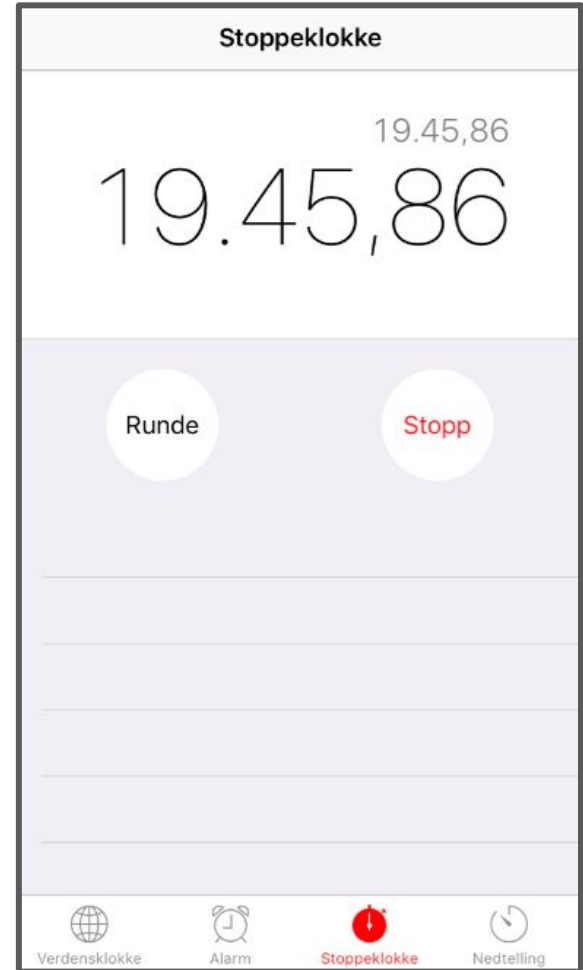
SVAR:

Rachel Marie trener i lysløypa på Hellemyr

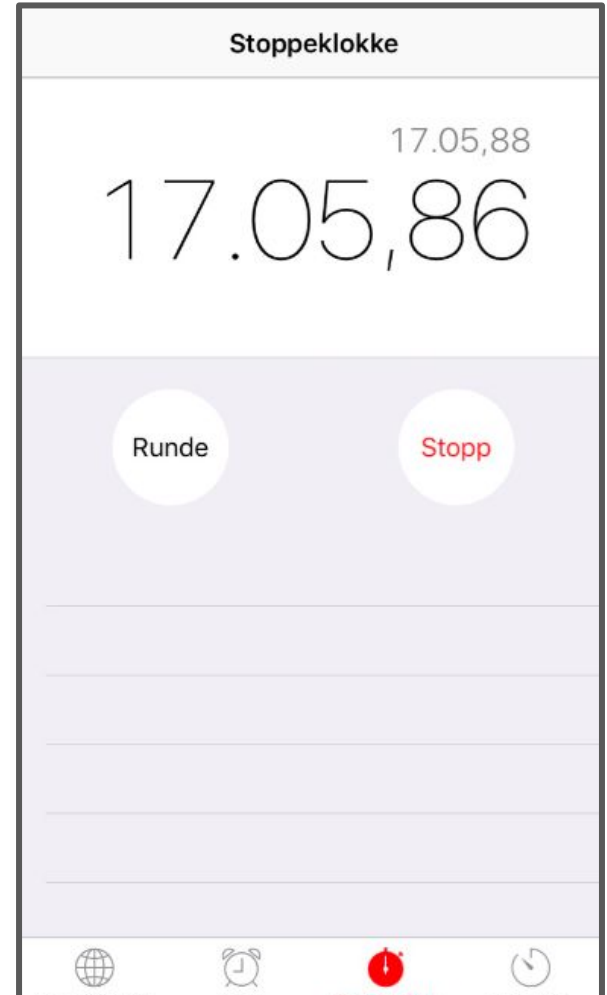


Første runde

Rachel Marie brukte 19.45,86 på første runde.

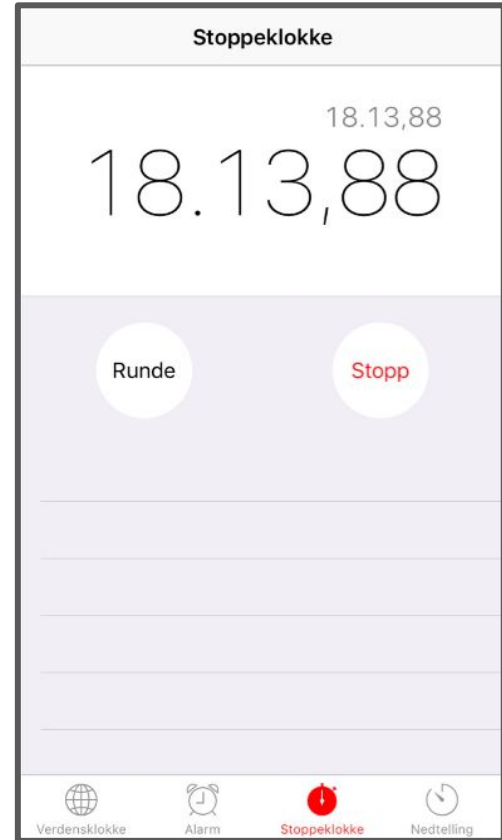


Andre runde

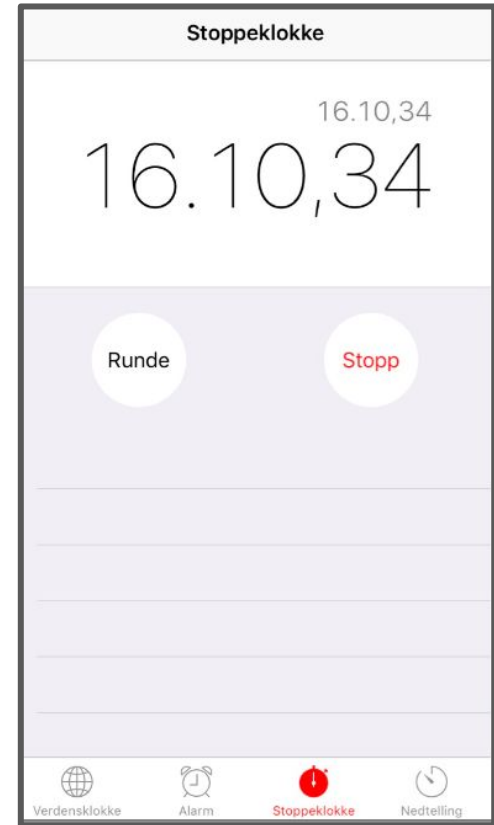


Tredje runde

På tredje runde hadde hun litt svakere tid enn andre runde. Nå prøver hun å skjerpe seg!



Fjerde runde



10 % forbedring på siste runde!!!!



Trim

Rachel Marie har løpet 5 runder i lysløypa på Hellemyr. Den er 2,1 km lang. Lag oppgaver om prosent ut fra de opplysninger du vet. Tenk over hva som er 100%. Løs oppgavene og vis hvordan dere tenker.